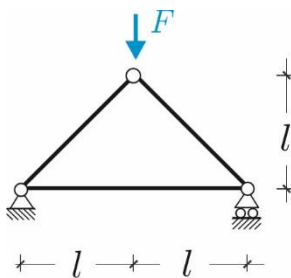


(E13)

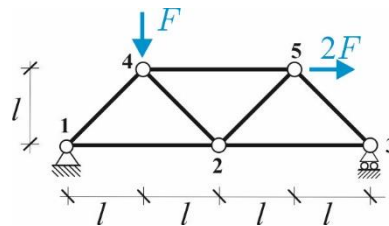
Travature Reticolari

Problema 1. Con riferimento alla **struttura 1**, calcolare le reazioni vincolari dei vicoli esterni e la forza normale nelle aste utilizzando il *metodo dei nodi*. **Problema 2.** Per la **struttura 2**, calcolare le reazioni vincolari dei vicoli esterni e la forza normale nelle aste 4-5 e 2-4 utilizzando il *metodo delle sezioni di Ritter*. **Problema 3** Per la **struttura 3**, calcolare le reazioni vincolari dei vicoli esterni e la forza normale nelle aste: 7-8, 1-8 (*metodo delle sezioni di Ritter*) 4-5, 5-6 (*Metodo dei nodi*). **Problema 4-6** Per la **strutture 4-6**, calcolare le reazioni vincolari dei vicoli esterni e la forza normale nelle aste: 9-8, 3-4, 2-9, 1-10.

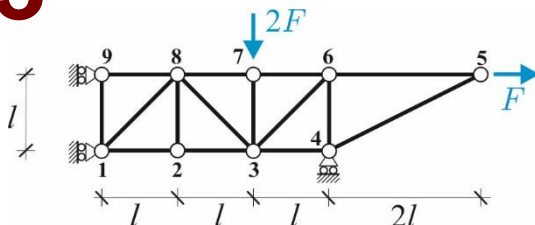
1



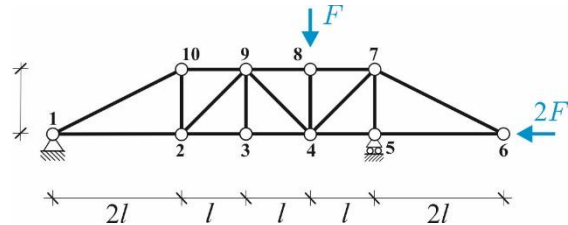
2



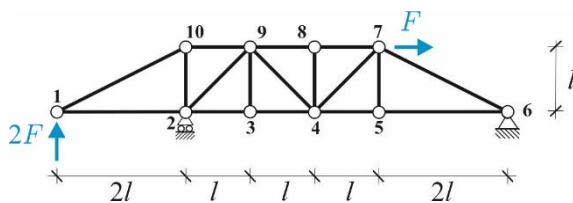
3



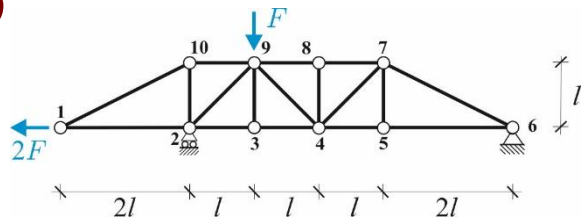
4



5



6



COGNOME.....

NOME.....

MAT.....

SITO

www.pcasini.it/disg/statica